

آزمون شبیه ساز نیمسال اول درس : اقتصاد	ساعت شروع :	تاریخ امتحان :	مدت امتحان :
نام و نام خانوادگی :	رشته : انسانی	پایه ی دهم دوره ی متوسطه	تعداد صفحات : ۶ صفحه
آزمون شبیه ساز + پاسخنامه	جهت دریافت ۷ روز مشاوره و برنامه ریزی رایگان پادینو با شماره 02166906790 تماس بگیرید		
ردیف	سوالات		
	نمره		

اقتصاد

۱ به نظر شما چرا آقای محمدی باید به دولت مالیات بدهد؟

درست یا نادرست بودن جمله‌های زیر را مشخص کنید.

۲ فقط تعداد محدودی از کسب‌وکارهای نوپا، عمر کوتاهی دارند و غالباً به موفقیت‌های نسبی دست می‌یابند.

۳ به جهت احتمال از بین رفتن یک کسب‌وکار جدید، احتمال موفقیت و سودآوری آن نیز بسیار کم است.

۴ شرط لازم برای راه‌اندازی یک کسب‌وکار توسط کارآفرین، داشتن توانایی مالی مناسب است.

۵ کارآفرین "تیزبین" است، چراکه ایده‌ها را به محصولات و کسب‌وکارهای جدید تبدیل می‌کند.

۶ یکی از راه‌های کاهش هزینه‌های تولید، کاهش میزان حجم تولید است.

۷ هنگامی که یک کارآفرین در وضعیت زیان قرار می‌گیرد تنها راه‌حل آن کاهش هزینه‌ها است.

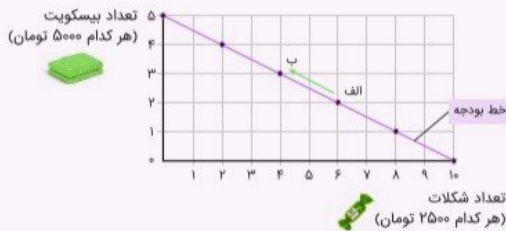
۸ کسب‌وکارهای شخصی بیشتر در زمینه تولید کالا مشاهده می‌شود، همانند محصولات کشاورزی و صنعت.

۹ غالباً کسب‌وکارهای شخصی در اموری که نیازمند تحصیلات و تخصص نیست، مورد استفاده قرار می‌گیرد.

۱۰ در کسب‌وکار شخصی، یک فرد مسئول همه تصمیمات مهم است و کارها صرفاً توسط خود او انجام می‌شود.

- ۱۱ شرکت برای رشد بهتر می‌تواند تبلیغ کند، کارمند استخدام کند، و یا جذب سرمایه کند.
- ۱۲ در کسب‌وکارهای شخصی، به جهت مقیاس کوچک کار، تأمین منابع سریع و راحت‌تر انجام می‌شود.
- ۱۳ قانون با یک شرکت، مشابه با یک فرد و یا انسان رفتار نمی‌کند.
- ۱۴ مفهوم "دارایی" برای یک شرکت بی‌معنا است، بلکه افراد هستند که دارایی شرکت را معین می‌سازند.
- ۱۵ عمل به قوانینی که دولت برای شرکت‌ها وضع می‌کند، سبب پرهزینه شدن شرکت‌ها می‌گردد.
- ۱۶ ضرر و بدهی سهامداران، صرفاً محدود به میزان سهام آن‌ها است.
- ۱۷ امکان افزایش سرمایه یک شرکت، تنها از طریق افزایش سود شرکت و دارایی سهامداران آن است.
- ۱۸ تقسیم سود عادلانه بر اساس میزان سهام هر فرد، از محاسن "شرکت" است.
- ۱۹ ۴ مورد از ویژگی‌های یک کارآفرین موفق را نام ببرید.
- ۲۰ اقسام مالیات بر درآمد را نام ببرید.

فرض کنید شما ۲۵ هزار تومان برای صرف عصرانه پول دارید. در شکل زیر نحوه انتخاب بین بیسکویت و شکلات را بررسی کنید. هر نقطه بر روی نمودار خط بودجه نشان‌دهنده مقدار بیسکویت و شکلاتی است که با ۲۵ هزار تومان می‌توان خرید. بده بستان بین نقاط الف و ب چگونه است؟ اگر از نقطه الف به ب یا بالعکس حرکت کنیم، چه تغییری در مقدار انتخاب‌شده از هریک از این دو کالا روی می‌دهد؟



تعداد شکلات / بیسکویت	۰	۱	۲	۳	۴	۵	۶	۷	۸	۹	۱۰
قیمت شکلات‌ها (به ازای هر واحد، ۲۵۰۰ تومان)	۰	۲۵۰۰	۵۰۰۰	۷۵۰۰	۱۰۰۰۰	۱۲۵۰۰	۱۵۰۰۰	۱۷۵۰۰	۲۰۰۰۰	۲۲۵۰۰	۲۵۰۰۰
قیمت بیسکویت‌ها (به ازای هر واحد، ۵۰۰۰ تومان)	۰	۵۰۰۰	۱۰۰۰۰	۱۵۰۰۰	۲۰۰۰۰	۲۵۰۰۰					

هنگامی که درباره الگوی مناسب تجارت خارجی فکر می‌کنیم، درواقع در حال یک انتخاب هستیم. چگونه می‌توانیم از منافع تجارت خارجی (اصل مزیت مطلق و مزیت نسبی) بهره‌مند شویم، اما در تأمین نیازهای اساسی‌مان به دیگران وابسته نشویم؟

کدامیک از موارد زیر، کارآفرینی به شمار می‌رود؟

حسابداری یک شرکت خصوصی:

۲۴ تولید مربا و ترشی در منزل:

۲۵ مشاوره و برنامه‌ریزی تحصیلی برای داوطلبان کنکور:

۲۶ پرستار یک شرکت خدماتی جهت مراقبت از سالمند:

۲۷ پزشک متخصص بیمارستان خصوصی:

۲۸ دستفروشی در بازارچه کوچک:

۲۹ فروشندگی در یک سوپرمارکت:

۳۰ پیمانکار سرویس ایاب و ذهاب مدرسه:

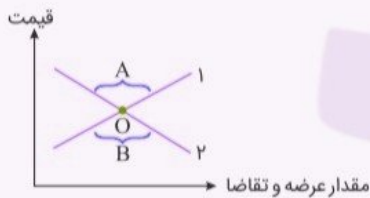
۳۱ باتوجه‌به نمودار زیر به سؤالات پاسخ دهید.

الف) کدام یک منحنی عرضه و کدام یک تقاضا است؟

ب) نقطه تعادل کدام است؟

پ) در کدام قسمت مازاد عرضه داریم؟

ت) در کدام قسمت مازاد تقاضا داریم؟



۳۲ قید بودجه یعنی: به دلیل ناچاریم.....

۳۳ الگوی زیر مربوط به یک شرکت لبنیات است که دو محصول کره و بستنی تولید می‌کند.

باتوجه‌به این الگو به سؤالات زیر پاسخ دهید.

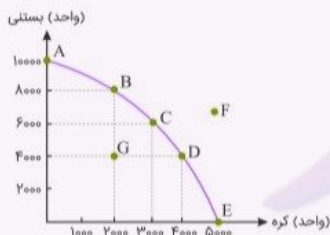
الف) در کدام نقاط تولید کارآمد است؟

ب) مقدار تولید کره در نقطه D؟

پ) مقدار تولید بستنی در نقطه B؟

ت) در کدام نقطه تولید ناکارآمد است؟

ث) به کدام نقطه با امکانات فعلی نمی‌توان رسید؟



به سوالات زیر پاسخ کوتاه دهید.

- ۳۴ هزینه‌های تولید را نام ببرید.
- ۳۵ انگیزه لازم برای شروع یک کسب‌وکار و پذیرش خطرات آن توسط یک کارآفرین چیست؟
- ۳۶ "نظم و انضباط و اشتیاق برای حل مسئله" به کدام ویژگی کارآفرین اشاره دارد؟
- ۳۷ سه مورد از تصمیمات مهمی که یک کارآفرین باید بر اساس دانش و آگاهی خود اتخاذ نماید، را نام ببرید.
- ۳۸ تفاوت عمده کارآفرینان به لحاظ بینش و روش، با سایر افراد عادی در چیست؟
- ۳۹ سه مورد از کارهای خلاف شرع در اقتصاد که سبب برهم خوردن توازن اقتصادی و انحطاط آن می‌گردد را نام ببرید.
- ۴۰ سه راهکار مهم برای صرفه‌جویی و افزایش بهره‌وری را نام ببرید.
- ۴۱ تفاوت مفهومی اقسام مختلف کسب‌وکار به چه نکته مهمی وابسته است؟
- ۴۲ توجه به این نکته که مالک محصول و کالای تولیدی چه کسی است، بیانگر چه مفهومی است؟
- ۴۳ "منافع مالیاتی" از مزایای کدام نوع از کسب‌وکار است؟
- ۴۴ یکی از مزایای ایجاد شرکت سهامی تخصصی‌گرایی بیشتر است، مفهوم آن را بنویسید.
- ۴۵ "آزادی عمل و سهولت در تصمیم‌گیری" را در کسب‌وکار شخصی با کسب‌وکار شرکتی مقایسه کنید.
- ۴۶ شرکت‌ها دو نوع مالیات پرداخت می‌کنند، آن‌ها را نام ببرید.

فرض کنید پدرتان می‌خواهد از بین سه خودروی جدول زیر یکی را برای خرید انتخاب کند. ستون دوم، مربوط به منافع داشتن آن خودرو است که می‌تواند شامل معیارهایی مثل کیفیت، کارکردها، زیبایی و ... باشد که به صورت عددی درآمده و مقداری است که خرید آن برای شما می‌ارزد و ستون سوم قیمت آن در بازار است. به نظر شما کدام یک ارزش خرید بالاتری دارد؟

خودرو	منافع خودرو (به میلیون تومان)	هزینه خودرو (به میلیون تومان)	منفعت خالص (= منافع - هزینه) (به میلیون تومان)
	۱۰۰	۱۲۰	؟
	۷۰	۶۰	؟
	۶۰	۵۵	؟

به نظر شما، آیا ملاک‌های انتخاب در اقتصاد، فردی است یا اینکه اصول و قوانین مشترکی بر آن حاکم است؟

قیمت تعادلی چیست و اگر مقدار عرضه یا تقاضا بیشتر از مقدار آن‌ها در قیمت تعادلی باشد، در بازار چه روی می‌دهد؟

به نظر شما چه عللی باعث می‌شود طرف عراقی به فکر وارد کردن محصول از یک کشور دیگر بیفتند؟

آزمون شبیه ساز نیمسال اول درس : اقتصاد	ساعت شروع :	تاریخ امتحان :	مدت امتحان :
نام و نام خانوادگی :	رشته : انسانی	پایه ی دهم دوره ی متوسطه	تعداد صفحات : ۴ صفحه
آزمون شبیه ساز + پاسخنامه	جهت دریافت ۷ روز مشاوره و برنامه ریزی رایگان پادینو با شماره 02166906790 تماس بگیرید		
ردیف	پاسخنامه		نمره

اقتصاد

۱ همان طور که می دانید دولت به عنوان متولی اصلی قدرت در یک کشور وظیفه تأمین امنیت، تولید کالاهای عمومی مثل پارک، ایجاد راهها، ایجاد ثبات و نظم در بازارها و ... را بر عهده دارد. دولت نیز همانند هر بنگاه دیگری در اقتصاد برای انجام این امور نیازمند وجود منابع مالی یا درآمدهای قابل اتکا است. بخشی از این درآمدها از منابعی که در اختیار خود دولت است فراهم می شود؛ اما این منابع نمی تواند جوابگوی حجم بالای هزینه های دولت باشد. یکی از منابع مهم درآمدی دولت ها اخذ مالیات از مردم است. مالیات در حقیقت بخشی از درآمدهای افراد جامعه یا سود فعالیت های اقتصادی است که به صورت اجباری و بلاعوض در اختیار دولت قرار می گیرد. دولت موظف است این درآمدها را برای بهره وری بهتر از منابع موجود و ایجاد بستری مناسب برای بهبود امکانات و شرایط لازم، در فعالیت های مختلف اقتصادی صرف کند. تصمیمات دولت به دلیل انسجام بالا و دید کلانی که نسبت به جامعه دارد بهتر از رفتار فردی مردم می تواند این امر را محقق کند. به این دلیل که آقای محمدی یک فعال اقتصادی است، باید به دولت مالیات بدهد.

پاسخ سؤالات ۲ تا ۱۸

۲ نادرست

۳ نادرست

۴ درست

۵ نادرست

۶ درست

۷ نادرست

۸ نادرست - تولید کالا و خدمات

۹ نادرست - برخی کارهای شخصی نیازمند تخصص هستند.

۱۰ نادرست - کارها صرفاً توسط وی انجام نمی شود.

۱۱ درست

۱۲ نادرست - در کارهای شخصی، تأمین منابع مشکل است.

۱۳ نادرست - قانون با یک شرکت، مشابه با یک فرد یا انسان رفتار می‌کند.

۱۴ نادرست - شرکت یک شخصیت حقوقی همانند افراد دارد.

۱۵ درست

۱۶ درست

۱۷ نادرست - از طریق دیگری مثل وام بانکی هم امکان‌پذیر است.

۱۸ نادرست - از معایب شرکت است.

۱۹ ویژگی‌ها:

۱- تیزبین ۲- نوآور ۳- ریسک‌پذیر ۴- پرانگیزه ۵- خوش‌بین ۶- یادگیرنده و سازمان‌دهنده

۲۰ مالیات بر درآمد کشاورزی و دامپروری - مالیات بر حقوق - مالیات بر مشاغل آزاد - مالیات بر درآمد اتفاقی - مالیات بر املاک - مالیات بر اشخاص حقوقی

۲۱ انتخاب‌های ما در نقاط الف و ب بدین گونه است که مجبور هستیم با توجه به اینکه در مقدار بودجه خود محدودیت داریم؛ متناسب با مقدار بودجه خود از مقدار یک کالا کاسته و بر مقدار کالای دیگر بیفزاییم و به‌گونه‌ای تعادل ایجاد کنیم که از محدوده بودجه ما خارج نشود. برای مثال زمانی که از نقطه الف به ب می‌رویم ۲ بیسکویت ما تبدیل به ۳ بیسکویت می‌شود ولی در مقابل مجبور هستیم تا از تعداد ۸ شکلات کم کنیم؛ بنابراین تعداد ۸ شکلات به ۴ شکلات تقلیل می‌یابد. اگر بخواهیم از ب به الف بازگردیم، باید تعداد بیسکویت‌ها را کم کرده و در عوض شکلات‌ها را افزایش دهیم.

۲۲ تأکید بر استقلال اقتصادی و خودکفایی و تولید ملی و جایگزینی واردات به معنای قطع روابط تجاری و اقتصادی با دنیا، انزوا و گوشه‌گیری از اقتصاد بین‌الملل نیست؛ پس نباید نادیده گرفت که عرصه تجارت بین‌المللی، عرصه تلاش و رقابت است. در فضای رقابتی فقط کسانی برنده شدند که ضمن شناسایی و افزایش توانمندی‌های خود، فرصت‌های بین‌الملل را نیز به خوبی بشناسند و با هوشمندی و کوشش فراوان، با افزایش همکاری‌های دوجانبه بین‌المللی از آن‌ها بهره‌مند شوند.

پاسخ سؤالات ۲۳ تا ۳۰

۲۳ کارآفرینی نیست. (کارمند)

۲۴ کارآفرینی است. (ایجاد اشتغال)

۲۵ کارآفرینی است. (اشتغال شخصی)

۲۶ کارآفرینی نیست. (کارمند)

۲۷ کارآفرینی نیست. (کارمند)

۲۸ کارآفرینی است. (اشتغال شخصی)

۲۹ کارآفرینی نیست. (کارمند)

۳۰ کارآفرینی است. (ایجاد اشتغال)

۳۱ الف) ۱ منحنی عرضه، ۲ منحنی تقاضا

ب) نقطه O

پ) قسمت A

ت) قسمت B

۳۲ محدودیت بودجه - بین گزینه‌ها بده - بستان (مبادله) کنیم.

۳۳ الف) A, B, C, D و E

ب) ۴۰۰۰ واحد

پ) ۸۰۰۰ واحد

ت) نقطه G

ث) نقطه F

پاسخ سؤالات ۳۴ تا ۴۶

۳۴ اجاره یا خرید مکان - دستمزد کارمندان - قیمت یا اجاره ابزار تولید

۳۵ احتمال موفقیت و سودآوری

۳۶ پرانگیزه بودن

۳۷ موقعیت شرکت - پیشنهاد محصول - قیمت‌گذاری - پیشنهاد محصول - استخدام نیروی کار - تبلیغات

۳۸ دیدن فرصت‌هایی که دیگران از مشاهده آن ناتوان هستند - شجاعت برای شروع سرمایه‌گذاری

۳۹ احتکار کردن - رشوه دادن - رباخواری

۴۰ پرهیز از استخدام نیروی کار غیر لازم - صرفه‌جویی در مواد اولیه و انرژی - جلوگیری از ریخت‌وپاش‌ها

۴۱ مالک محصول یا کالای نهایی

۴۲ سازمان تولید

یعنی در این صورت امکان جذب افراد توانمندتر در زمینه‌های تخصصی و ویژه برای شرکت وجود دارد.

وقتی مشکلی پیش می‌آید سرعت تصمیم‌گیری در کسب‌وکار شخصی نسبت به زمانی که چند نفر کنار هم باید تصمیم بگیرند، بیشتر است. سرعت عمل در بازاریابی و جذب مشتری نیز وجود دارد.

مالیات بر درآمد - مالیات بر سود

خودرو ردیف دوم؛ چون منفعت خالص آن از دو خودرو دیگر بیشتر است.

ملاک‌های انتخاب علاوه بر اینکه مبتنی بر اصول و قوانین مشترک است، به شخصیت و ویژگی‌های فرد هم بستگی دارد.

قیمت تعادلی، قیمتی است که خریدار و فروشنده با هم به توافق رسیدند و مقدار معینی کالا را با هم مبادله می‌کنند در صورتی که مقدار عرضه بیشتر از مقدار تعادلی باشد یعنی قیمت افزایش یافته و عرضه‌کننده مقدار عرضه خود را افزایش داده که در این حالت مازاد عرضه اتفاق می‌افتد و برعکس در صورتی که میزان تقاضا از مقدار تعادل بیشتر شود یعنی قیمت از قیمت تعادلی کمتر است، میزان عرضه کاهش یافته و میزان تقاضا افزایش یافته است که در این صورت مازاد تقاضا داریم.

مواد موردنیاز فرد عراقی، یا در کشورش موجود نباشد و یا اینکه وارد کردن آن محصول از کشوری دیگر برایش صرفه اقتصادی داشته باشد.